



# CONCURSO PÚBLICO

MERENDEIRA

PREFEITURA MUNICIPAL DE URUPÊS

NOME DO CANDIDATO \_\_\_\_\_

RG \_\_\_\_\_

DATA: / /

ASSINATURA \_\_\_\_\_

## INSTRUÇÕES

- Esta prova consta de:

Escrita de Língua Portuguesa, Matemática e Conhecimentos Básicos do Emprego .....  
.....100,00 pontos

- As questões devem ser assinaladas com um X nos parênteses da alternativa correta e depois no número correspondente da Folha de Respostas. Faça marcas fortes como no

modelo  A  B  C  D  E

- Se você acha que alguma questão apresenta problema, solicite a folha de observação ao fiscal de sua sala.

- **Caso este caderno apresente algum defeito, informe ao fiscal da sala.** Incorreções na impressão não devem ser levadas em consideração.

- Nenhuma folha deste caderno poderá ser destacada.

- Se necessário use os espaços em branco para rascunho, não precisa apagar.

- Você terá três horas para fazer a prova e preencher a Folha de Respostas.

- A Folha de Respostas deverá ser assinada pelo candidato.

- Após o término da prova, este caderno deverá ser entregue ao fiscal de sala.

- Os fiscais de aplicação de provas não possuem autonomia para opinar sobre a elaboração, os conteúdos, as respostas e a anulação de questões.

- **Não se comunique com outros candidatos, nem se levante sem autorização.**

- Gabarito disponível na terça-feira a partir das 14h.

|    |  |
|----|--|
| 01 |  |
| 02 |  |
| 03 |  |
| 04 |  |
| 05 |  |
| 06 |  |
| 07 |  |
| 08 |  |
| 09 |  |
| 10 |  |
| 11 |  |
| 12 |  |
| 13 |  |
| 14 |  |
| 15 |  |
| 16 |  |
| 17 |  |
| 18 |  |
| 19 |  |
| 20 |  |
| 21 |  |
| 22 |  |
| 23 |  |
| 24 |  |
| 25 |  |
| 26 |  |
| 27 |  |
| 28 |  |
| 29 |  |
| 30 |  |
| 31 |  |
| 32 |  |
| 33 |  |
| 34 |  |
| 35 |  |
| 36 |  |
| 37 |  |
| 38 |  |
| 39 |  |
| 40 |  |

**BOA PROVA!!!**

## Língua Portuguesa, Matemática

Leia o texto abaixo e responda as questões de 01 a 06.

### Os primeiros 200 anos

A celebração dos 200 anos da Independência permite uma reflexão preciosa sobre o longo prazo, assunto que não parece despertar muito interesse em meio aos debates eleitorais de 2022. Há muito o que pensar sobre o que se passou nesses últimos dois séculos, muita informação para processar, ainda que muitas das estatísticas para esses anos sejam de baixa qualidade, e o problema é especialmente sério para os tempos mais remotos.

O que dizem os dados? Como evoluíram a renda média real do brasileiro após 1822 e os preços? Existem enormes dúvidas metodológicas sobre essas estatísticas, que combinam diversas fontes e metodologias.

Salta aos olhos o desempenho ruim dos primeiros 100 anos, assunto sempre delicado, mas difícil de ser contestado seja em termos absolutos ou comparativamente a outros países ditos de assentamento recente. A República Velha exibe um desempenho melhor, mas os anos dourados para o crescimento parecem ser os do período 1949-80. Nunca mais conseguimos desempenho comparável, mesmo repetindo compulsivamente a receita.

O período seguinte, entre 1980 e 1994, é o de hiperinflação, e não há coincidência em que essa desgraça ocorra quando parece se esgotar o modelo até ali praticado com sucesso. Durante o nosso primeiro século como nação independente a inflação esteve em 3,8% ao ano, o que era muito para esse tempo. O nível de preços vai de 100 (0,3) a 4354 (14) em 100 anos.

Ao que parece, essa aceleração da inflação teve de ver com a insistência numa fórmula esgotada: crescimento como produto da inflação. A inflação turbinou o gasto público, como se sabe, mas também multiplica a desigualdade, pois funciona como um imposto que incide primordialmente sobre o pobre. Ou seja, a inflação ajuda, mas perverte o crescimento, pois resulta em ampliação de desigualdade.

Gustavo H. B. Franco

- 01 - De acordo com as informações do texto, é correto afirmar que:
- Após o aniversário da independência do Brasil, houve uma renovação do interesse em discutir o histórico da economia brasileira, efetivado nos debates eleitorais de 2022. ( )
  - Existem estatísticas claras e confiáveis que permitem atestar que o crescimento econômico do Brasil enfraqueceu ao longo dos últimos dois séculos. ( )
  - A partir da segunda metade do século XX, o Brasil presenciou um grande crescimento econômico, sem precedentes na história do país. ( )
  - O diminuto crescimento econômico do Brasil a partir da República Velha deu-se pela insistência em modelos de desenvolvimento comprovadamente ineficazes. ( )
- 02 - Sobre o período da hiperinflação no Brasil, de acordo com o texto, é correto afirmar que:
- A crise oriunda da alta generalizada dos preços no país ocorreu pela reiterada utilização de um modelo econômico já obsoleto, que gera desigualdade econômica. ( )
  - A hiperinflação coincidiu com o período de maior crescimento econômico do país, em termos de produto interno bruto, mas acarretou intensa desigualdade econômica, especialmente para setores historicamente desfavorecidos. ( )
  - Ao mesmo tempo em que a alta dos preços melhorou o poder de compra de classes desfavorecidas economicamente, gerou um crescimento econômico transitório para o país. ( )
  - A inflação é absolutamente ineficaz para o crescimento econômico de um país, tanto em relação aos gastos públicos quanto no combate à desigualdade econômica. ( )
- 03 - Qual a relação entre o histórico da inflação no Brasil e os debates eleitorais realizados em 2022, segundo as informações do texto?
- Refletir sobre o histórico da inflação no Brasil envolve o pensamento a longo prazo, tópico que aparentemente não é muito considerado no período dos debates eleitorais de 2022. ( )
  - O tópico da inflação foi utilizado como forma de demonstrar a ineficiência de antigos modelos de crescimento econômico que continuam sendo adotados no país. ( )
  - Debater sobre a economia dos primeiros anos do Brasil fez com que novas propostas de crescimento econômico e controle inflacionário fossem apresentadas pelos candidatos à eleição de 2022. ( )
  - Não se discutiu sobre a inflação durante os debates eleitorais de 2022, depreendendo-se que, atualmente, o Brasil se encontra em um período de crescimento econômico robusto. ( )

04 - Analise a seguinte frase:

“essa aceleração da inflação teve de ver com a insistência numa fórmula esgotada”

De acordo com as ideias do texto, o termo “esgotada” pode ser substituído, sem perda de sentido, por:

- a) elucidada ( )   c) proporcional ( )  
b) exaurida ( )   d) eventual ( )

05 - De acordo exclusivamente com o texto, o período da história do Brasil de maior crescimento econômico foi o:

- a) primeiro século do país. ( )   c) de 1949 a 1980. ( )  
b) da República Velha. ( )   d) de 1980 a 1994. ( )

06 - Acerca das estatísticas relativas aos dois séculos de história do Brasil, de acordo com o texto, é correto afirmar que:

- a) evidenciam as diversas crises econômicas do país, especialmente pela instabilidade política, demonstrando com clareza o crescimento nacional nos primeiros anos do Brasil. ( )  
b) geram dúvidas sobre qual o modelo de desenvolvimento econômico deve ser adotado atualmente no país, ainda que a confiabilidade dos dados não seja contestada. ( )  
c) são oriundas de fontes exclusivamente estatais, o que gera certa desconfiança acerca da veracidade das informações veiculadas. ( )  
d) os dados coletados, possivelmente, não representam com clareza a realidade histórica do Brasil, já que oriundos de diferentes fontes e procedimentos técnicos. ( )

07 - Assinale a alternativa incorreta, segundo os princípios gerais de concordância verbal:

- a) Quando o sujeito simples é constituído por pronome pessoal, o verbo irá para a pessoa e o número do sujeito explícito. ( )  
b) Quando o sujeito é simples e constituído por substantivo, palavra ou expressão substantivada, o verbo irá para a 3ª pessoa e para o número em que se achar o núcleo do sujeito, ainda que seja um coletivo. ( )  
c) Quando o sujeito composto é constituído por substantivos, o verbo irá para a 1ª pessoa do plural, qualquer que seja a sua posição em relação ao verbo. ( )  
d) Quando o sujeito composto é constituído por pronomes pessoais, ou por pronome mais substantivo, o verbo irá para a 1ª pessoa do plural, se houver um pronome de 1ª pessoa; irá para a 2ª ou 3ª pessoa do plural se não houver pronome da 1ª pessoa; irá para a 3ª pessoa do plural, se não houver pronome da 1ª ou da 2ª pessoa. ( )

08 - Analise o trecho abaixo, retirado da canção “Como dois e dois”, de Caetano Veloso:

“Tudo em volta está deserto, tudo certo. Tudo certo como dois e dois são cinco”

Há uma evidente figura de linguagem presente no trecho acima, sendo ela a seguinte:

- a) antítese (exposição de ideias opostas). ( )  
b) eufemismo (emprego de termos mais agradáveis para suavizar uma expressão). ( )  
c) gradação (ideias expostas de forma crescente). ( )  
d) hipérbato (troca da ordem direta dos termos). ( )

09 - Segundo a ortografia, assinale a alternativa incorreta:

- a) “Se o cenário se converter em noite escura, serei a estrela-guia para o rumo certo”. ( )  
b) “Erudção é uma instrução vasta e variada, adquirida, sobretudo, pela leitura e pelo estudo, direcionada a um conhecimento de cunho acadêmico”. ( )  
c) “A bola não é um senário, pois só contém 2 lados; o de dentro e o de fora”. ( )  
d) “A rubrica é uma maneira de certificar que a pessoa assinou o documento e leu todas as páginas”. ( )

10 - Segundo a concordância, assinale a alternativa correta:

- a) Carla anda meia cansada. ( )  
b) Vende-se amoras. ( )  
c) A documentação segue anexo. ( )  
d) É permitida a entrada de crianças de colo. ( )

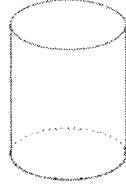
11 - Assinale a alternativa que contenha o valor do x na equação:

$$4x - 106 = 34$$

- a) 15 ( )   c) 35 ( )  
b) 20 ( )   d) 40 ( )

- 12 - Um saco com 20 kg de ração de gatos dá para 45 dias. Ao comprar a ração só tinha 11 kg, dessa maneira, para quantos dias aproximadamente se terá ração? (Não houve aumento nem diminuição no consumo da ração)
- a) 15 dias ( )                                      c) 30 dias ( )  
b) 24 dias ( )                                      d) 42 dias ( )
- 13 - Segundo a questão anterior, um saco com 20 kg de ração custa R\$ 320,00. Ao comprar os 11 kg, o vendedor ofereceu um desconto de 15%. Desta maneira, quanto saiu o quilo da ração?
- a) R\$ 13,60 ( )                                      c) R\$ 12,20 ( )  
b) R\$ 14,80 ( )                                      d) R\$ 16,00 ( )

- 14 - Sabendo que a altura do cilindro abaixo é 6 m e seu diâmetro é 4 m, qual é o seu volume?

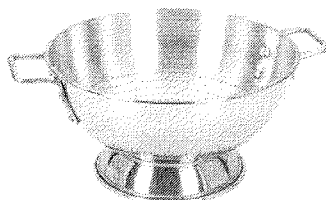


- a)  $75,36 \text{ m}^3$  ( )  
b)  $226,06 \text{ m}^3$  ( )  
c)  $301,44 \text{ m}^3$  ( )  
d)  $452,16 \text{ m}^3$  ( )
- 15 - Uma casa de boneca com 1,80 m produz uma sombra de 3,0 m. Na mesma proporção, quanto mede uma árvore que produz uma sombra de 4,0 m?
- a) 1,50 m ( )                                      c) 2,20 m ( )  
b) 1,80 m ( )                                      d) 2,40 m ( )
- 16 - Assinale a alternativa incorreta:
- a) 1 km = 1.000 m ( )  
b) 1 dam = 10 m ( )  
c) 1 dm = 0,01 m ( )  
d) 1 mm = 0,001 m ( )
- 17 - Uma geladeira está sendo vendida com um desconto de 8% por R\$ 2.850,00. Desta maneira, qual o valor dessa geladeira sem o desconto?
- a) R\$ 2.850,00 ( )  
b) R\$ 3.097,83 ( )  
c) R\$ 3.078,00 ( )  
d) R\$ 2.622,00 ( )
- 18 - Um pedreiro concretou  $1.000 \text{ m}^2$  em 100 dias. Quantos  $\text{m}^2$  três pedreiros, trabalhando no mesmo ritmo, concretam em 30 dias?
- a)  $3.000 \text{ m}^2$  ( )  
b)  $1.800 \text{ m}^2$  ( )  
c)  $900 \text{ m}^2$  ( )  
d)  $9.000 \text{ m}^2$  ( )
- 19 - Um produtor rural possui uma área de  $2,358 \text{ km}^2$ . O mesmo resolveu diversificar seu cultivo e optou pelo plantio de alface. Considerando que podem ser plantados 10 pés de alface por  $\text{m}^2$ . Quantos pés de alface serão necessários para o plantio total da área informada?
- a) 23.580 pés de alface ( )  
b) 2.358 pés de alface ( )  
c) 235 pés de alface ( )  
d) 23 pés de alface ( )
- 20 - O hospital da cidade "X" conta com 25 leitos de UTI-Tipo II-Adulto, para uso pela população do SUS. No mês de Junho de 2022, foram realizadas diversas internações das quais as contas foram encaminhadas para processamento junto ao Ministério da Saúde. Após o processamento das mesmas, foi extraída a informação de 630 (setecentos e trinta) diárias em UTI-Tipo II-Adulto. Com base nos dados apresentados, qual o percentual de taxa de ocupação mensal?
- a) 81,29% ( )  
b) 82% ( )  
c) 83,45% ( )  
d) 84% ( )

**Conhecimentos Básicos do Emprego**

- 21 - Considerando as normas de conduta em serviço público, é correto afirmar que o servidor público deve agir com decoro no cumprimento de suas funções, o que significa ser:
- a) informal e bem-humorado a todo momento. ( )
  - b) sério nas maneiras e ter compostura. ( )
  - c) indiferente às necessidades do público atendido. ( )
  - d) rígido e grosseiro nas relações de trabalho. ( )
- 22 - Considerando as noções básicas de higiene pessoal e no trabalho, é correto afirmar que o uniforme utilizado pelo trabalhador pode servir de transporte de micróbios para o interior da área de preparo de alimentos, contaminando-os. Por essa razão:
- a) o uniforme somente deve ser usado na área de preparo dos alimentos. ( )
  - b) o trabalhador deve usar o uniforme desde o momento em que deixa sua residência. ( )
  - c) não se deve utilizar uniformes durante o serviço de manipulação e distribuição de alimentos. ( )
  - d) o uniforme não pode ser trocado com frequência, para evitar contaminação.
- 23 - A gripe é uma infecção aguda do sistema respiratório, provocada pelo vírus influenza, com grande potencial de transmissão. De acordo com as noções básicas de saúde, assinale uma conduta adequada para evitar a transmissão da gripe:
- a) manter os ambientes bem fechados no inverno, evitando correntes de ar e friagem. ( )
  - b) ir trabalhar enquanto estiver com gripe, comunicando a todos do ambiente de trabalho que está doente. ( )
  - c) utilizar um lenço descartável para higiene nasal e para cobrir o nariz e a boca ao espirrar e tossir. ( )
  - d) evitar lavar as mãos com frequência para não entrar em contato com água fria. ( )
- 24 - De acordo com as noções básicas de saúde, assinale a alternativa correta sobre os cuidados que se deve ter com a água na manipulação e distribuição de alimentos:
- a) Pode ser utilizada água não potável na cozinha desde que somente para preparação de gelo e bebidas quentes como chá e café. ( )
  - b) Os estabelecimentos de preparação de alimentos não devem ser abastecidos com água corrente tratada. ( )
  - c) As caixas d'água não podem ser mantidas tampadas, para evitar a proliferação do mosquito da dengue. ( )
  - d) É necessário lavar e desinfetar a caixa d'água, pois, mesmo tratada, a água poderá se contaminar. ( )
- 25 - Segundo as noções básicas de segurança no trabalho, identifique abaixo uma situação que pode acarretar um acidente de trabalho:
- a) utilizar botas de proteção antiderrapantes em pisos impermeáveis e eventualmente molhados. ( )
  - b) operar máquinas e equipamentos na velocidade adequada, para a qual foram projetados. ( )
  - c) manter o ambiente bem iluminado e com ventilação adequada para a atividade desenvolvida. ( )
  - d) lavar frequentemente máquinas e equipamentos do local de trabalho enquanto estiverem em funcionamento. ( )
- 26 - Os equipamentos de proteção individual (EPI) são essenciais para evitar acidentes de trabalho. Em cozinhas industriais e em estabelecimentos de manipulação de alimentos, é de suma importância que o trabalhador se proteja ao manusear facas, lâminas lisas e demais utensílios que podem provocar cortes e ferimentos. Nesse caso, deve-se utilizar o seguinte EPI:
- a) luvas de vinil descartáveis. ( )
  - b) luva de malha de aço. ( )
  - c) avental térmico. ( )
  - d) mangotes. ( )
- 27 - Sobre o valor nutricional do leite integral, assinale a alternativa correta:
- a) É um alimento com baixo valor energético e com pouca gordura. ( )
  - b) É rico em cálcio e em carboidratos, mas não possui quantidades significativas de gordura. ( )
  - c) Contém carboidratos, proteínas e é rico em cálcio, mas contém também gordura. ( )
  - d) É fonte de cálcio, mas não contém proteínas, sendo alimento indicado principalmente para crianças. ( )

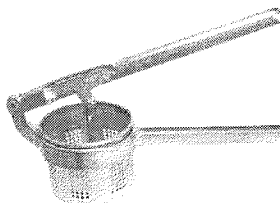
28 - Analise a imagem abaixo:



A imagem representa um utensílio utilizado na cozinha industrial, e sua finalidade é:

- a) auxiliar no preparo de frituras, resfriando o alimento. ( )
- b) auxiliar no preparo de macarrão, escorrendo a água. ( )
- c) escorrer água de outros utensílios de cozinha após lavados. ( )
- d) fatiar e picar alimentos folhosos como alface e repolho. ( )

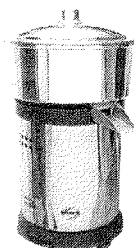
29 - Analise a imagem abaixo:



Ela representa um utensílio utilizado na cozinha industrial, e sua finalidade é:

- a) resfriar massas. ( )
- b) preparar alimentos fritos. ( )
- c) amassar batata. ( )
- d) prensar carne. ( )

30 - Analise a imagem abaixo:



Ela apresenta um equipamento utilizado na cozinha industrial, e sua função é:

- a) espremer frutas ( )
- b) moer carne ( )
- c) processar grãos ( )
- d) peneirar trigo ( )

31 - Considerando o valor nutricional do feijão, é um alimento rico em:

- a) colesterol e cálcio. ( )
- b) vitamina B12 e ferro. ( )
- c) fibra alimentar e ferro. ( )
- d) fibra alimentar e vitamina C. ( )

32 - Durante a utilização de óleos na preparação de alimentos, pode haver alterações no cheiro, sabor, cor, formação de espuma e fumaça desse produto. Estes sinais indicam que o óleo:

- a) deve ser trocado imediatamente. ( )
- b) está pronto para receber alimentos. ( )
- c) pode ser trocado após uma semana. ( )
- d) pode ser armazenado para ser utilizado novamente para preparar alimentos. ( )

33 - Na preparação de alimentos, as carnes cruas e os vegetais não lavados podem transmitir micróbios nocivos para a saúde aos alimentos prontos, por meio de utensílios. Essa contaminação pode ocorrer na seguinte situação:

- a) lavar utensílios usados no preparo de alimentos crus antes de utilizá-los em alimentos cozidos. ( )
- b) separar diferentes utensílios para carnes cozidas e verduras cruas. ( )
- c) manter alimentos cozidos separados de alimentos crus. ( )
- d) cortar frango cru e usar a mesma faca, sem lavar, para fatiar carne assada. ( )

- 34 - A estocagem é a etapa da manipulação de alimentos que visa armazenar e controlar a entrada e saída dos alimentos em estoque. Sobre a estocagem de alimentos, assinale a alternativa correta: ( )
- A área de estocagem deve ser bem ventilada e conter ralos para escoamento de líquidos. ( )
  - As prateleiras do estoque devem ficar totalmente encostadas na parede, como forma de apoio. ( )
  - Os alimentos devem ser armazenados em grupos, por tipo ou espécie. ( )
  - Os produtos devem ser estocados bem próximos uns dos outros, como forma de impedir a circulação de ar. ( )
- 35 - Na manipulação de alimentos, o pré-preparo é a etapa que visa modificar alimentos para serem preparados, por meio de seleção, higienização, escolha, corte, dentre outras operações. Sobre esta etapa da preparação de refeições, assinale a alternativa correta:
- Nunca se deve lavar em água corrente, com sabão, embalagens impermeáveis e latas antes de abri-las. ( )
  - Após a limpeza e corte de alimentos, estes devem permanecer o maior tempo possível em temperatura ambiente antes de ser cozidos ou distribuídos. ( )
  - Um alimento que foi descongelado, mas não foi utilizado, deve ser congelado novamente. ( )
  - No caso de alimentos congelados, deve-se evitar o descongelamento em temperatura ambiente. ( )
- 36 - Na distribuição de refeições, que visa oferecer os alimentos para o consumo imediato, sob controle de tempo e temperatura, é uma conduta inadequada, que pode causar contaminação:
- abastecer as cubas em pequenas quantidades e quantas vezes forem necessárias. ( )
  - reutilizar os restos de alimentos das cubas que não foram distribuídos. ( )
  - não conversar durante a distribuição de refeições e prender os cabelos. ( )
  - distribuir as refeições logo após a sua preparação. ( )
- 37 - Na conservação de alimentos, para evitar a proliferação de microrganismos nocivos, é correto afirmar que:
- produtos refrigerados devem ser conservados em temperatura inferior a 7°C. ( )
  - produtos cozidos contaminados após o preparo podem ser descontaminados se congelados. ( )
  - alimentos prontos não devem ser manuseados com as mãos, mesmo se o manipulador estiver com luvas descartáveis apropriadas. ( )
  - alimentos crus podem ser conservados em conjunto com alimentos prontos e já cozidos. ( )
- 38 - Na higienização dos utensílios utilizados na manipulação de alimentos, deve-se higienizar primeiro:
- os utensílios menos engordurados. ( )
  - os utensílios mais engordurados. ( )
  - panelas e pratos, e, logo depois, canecas e, por último, copos. ( )
  - os utensílios maiores e mais sujos e, logo depois, os menores e menos engordurados. ( )
- 39 - Leia a definição abaixo:  
"Operação pela qual o alimento é dividido e acondicionado para atender a sua distribuição".  
De acordo com a Portaria nº 5 do Centro de Vigilância Sanitária do Estado de São Paulo, trata-se:
- da rotulagem ( )
  - da higienização ( )
  - da desinfecção ( )
  - do fracionamento ( )
- 40 - Leia a definição abaixo:  
"Transferência da contaminação de uma área ou produto para áreas ou produtos anteriormente não contaminados, por meio de superfícies de contato, mãos, utensílios e equipamentos, entre outros".  
De acordo com a Portaria nº 5 do Centro de Vigilância Sanitária do Estado de São Paulo, trata-se:
- da assepsia ( )
  - da contaminação cruzada ( )
  - dos produtos sanitizantes ( )
  - do controle integrado de vetores ( )